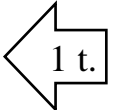


**VILNIAUS MIESTO TREČIŲ KLASIŲ MOKINIŲ
PASAULIO PAŽINIMO OLIMPIADOS UŽDUOTYS
2019 M.**

Mokykla

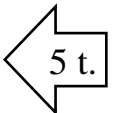
Mokinio vardas, pavardė Kodas.....

1. Paaiškink, dėl kokios priežasties kyla vėjas.



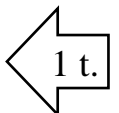
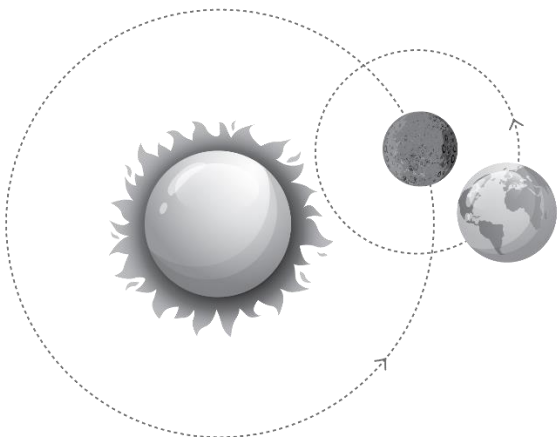
.....
.....

2. Ar pažįsti Žemę? Teisingą teiginį pažymėk T, klaidingą teiginį pažymėk K.



- Žemės didžiąją paviršiaus dalį sudaro sausuma.
- Kiekviename Žemės taške para trunka vienodai – 24 valandas. Tačiau įvairiose Žemės vietose skiriasi dienos ir nakties ilgumas.
- Žemė yra žvaigždė.
- Metų laikai keičiasi dėl pasvirusios Žemės ašies.
- Žemės paviršiaus temperatūra artima Saulės paviršiaus temperatūrai.

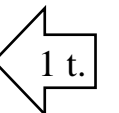
3.



Patyrinėk paveikslėlį. Rask klaidą.
Parašyk, kas pavaizduota neteisingai.

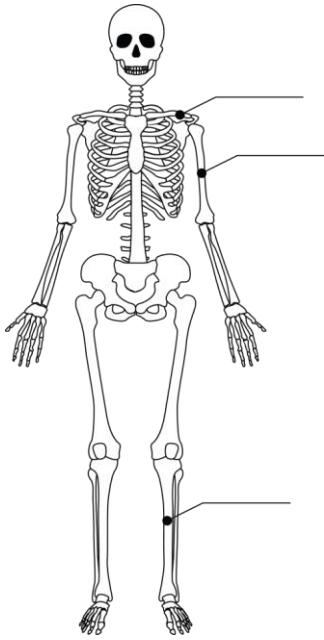
.....
.....
.....

4. Kokia virškinimo proceso eiga žmogaus organizme? Pažymėk (X) teisingą teiginį.

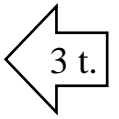


- Burna, skrandis, stemplė, plonoji žarna, storoji žarna.
- Burna, stemplė, skrandis, plonoji žarna, storoji žarna.
- Burna, stemplė, plonoji žarna, storoji žarna, skrandis.

5.

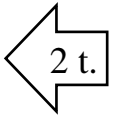
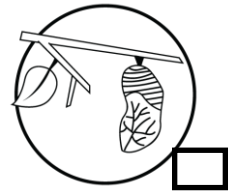
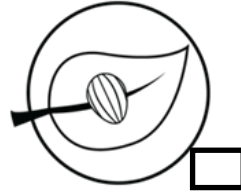
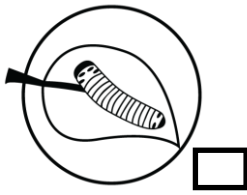


Atrink ir parašyk paveikslėlyje pažymėtų kaulų pavadinimus:



- ŠLAUNIKAULIS,
- RAKTIKAULIS,
- ŠONKAULIS,
- BLAUZDIKAULIS,
- ŽASTIKAULIS,
- STUBURAS,
- DUBENS KAULAI.

6. Įsižiūrėk į paveikslėlius. Taip juos sunumeruok, kad būtų aišku, iš kur atsiranda ir kaip užauga drugelis. Užrašyk vystymosi stadijų pavadinimus.




.....

.....

.....

.....

7.



Pažiūrėk į paveikslėlius ir atsakyk į klausimus:

1. Kuris iš šių gyvūnų turi vidinį skeletą ir maitina pienu savo jaunikius?

.....

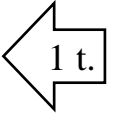
2. Kurio gyvūno kūnas sudarytas iš trijų dalių ir turi tris poras kojų?

.....

3. Kuris gyvūnas turi minkštą, beskeletį kūną?


.....

8. Penkerių metų Agnė močiutės darže nuskyne visus braškių žiedus. Kas nutiks braškėms? Parašyk.



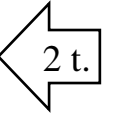
.....

9. Parašyk bent du daiktus, kuriuos įdėjus į paveikslėlyje pažymėtą vietą, elektros lemputė šviestų.



1.

2.



10. Lina pasidarė tris tirpalus ir į juos įmetė po ledo kubelį.



Vanduo ir 1 šaukštelis druskos.

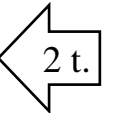


Vanduo ir 2 šaukšteliai druskos.



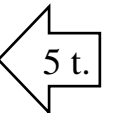
Vanduo ir 3 šaukšteliai cukraus.

Pažymėk (X), kurioje stiklinėje ledo kubelis ištirps greičiausiai ir paaiškink, kodėl.



.....
.....

11. Įrašyk Lietuvos žemėlapyje etnografinių regionų pavadinimus.



12. Ar pavyktų su magnetu ištraukti akmenį iš vandens stiklinės?



Pažymėk (X) teisingą atsakymą.

Taip

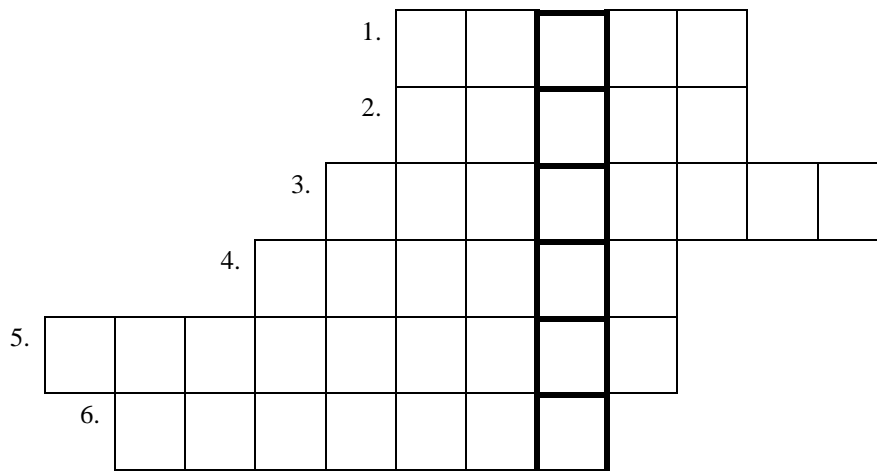
Ne

2 t.

Paaiškink, kodėl taip manai.

.....
.....

13. Išspręsk laiptažodį.



6 t.

1. Lietuvos upė, vadinama upių motina.
2. Vienintelė vandens (salos) pilis Rytų Europoje.
3. Didžiausias Lietuvos ežeras.
4. Kunigaikščio Vytauto motinos vardas.
5. Lietuvos didysis kunigaikštis, pirmasis Europoje išgarsinęs Vilniaus, kaip Lietuvos sostinės, vardą.
6. Kas Vytautui Didžiajam buvo kunigaikštis Gediminas?

AČIŪ UŽ DARBĄ

Iš viso gali surinkti 34 taškus.