

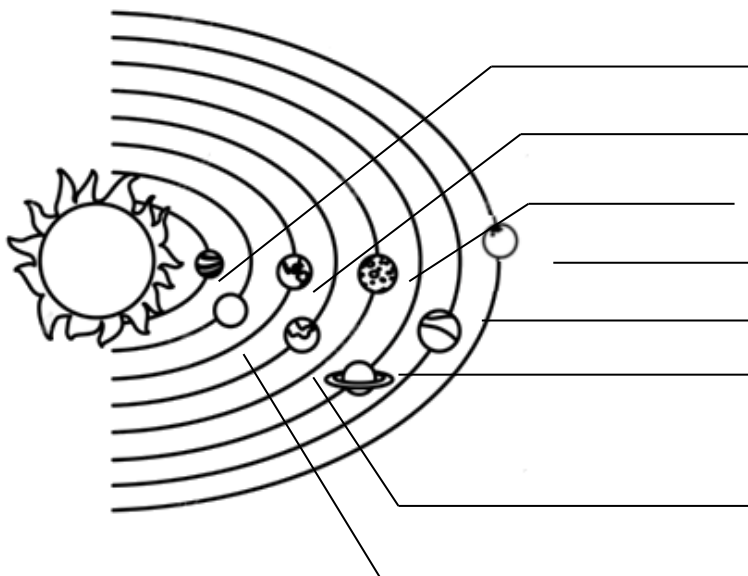
**ЗАДАНИЯ ГОРОДСКОЙ ОЛИМПИАДЫ  
ПО ПОЗНАНИЮ МИРА ДЛЯ 4-ОГО КЛАССА  
2019 Г.**

Школа.....

Имя, фамилия ученика ..... Код.....

1. Вокруг Солнца вращаются 8 планет. Две из них благодаря своим специфическим особенностям называются ещё Красной и Голубой планетами. Найди их на схеме Солнечной системы и запиши на линиях настоящие названия этих двух планет.

← 2 t.



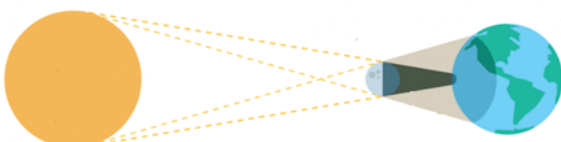
2. Знаешь ли ты Луну? Верное утверждение отметь буквой В, ошибочное утверждение отметь буквой О.

← 5 t.

- Луна не излучает свет.
- Луна делает оборот вокруг Земли за 365 дней.
- На Луне нет воздуха и воды.
- За день поверхность Луны нагревается до + 120° С, ночью температура опускается до – 150° С.
- На Луне предметы весят больше, чем на Земле.

3. Какое явление изображено на рисунке? Запиши.

← 1 t.



.....

4. Как птицы сидят на деревьях зимой? Отметь крестиком (X) правильный ответ. Объясни, почему.

Против ветра

По ветру

2 t.

5. Отметь крестиком (X) органы пищеварения. Запиши их названия.



.....



.....



.....



.....



.....



.....

3 t.

6. Отметь на карте крестиком (X) материк Южная Америка.



1 t.

7. Некоторые животные очень редкие. Например, обыкновенная рысь. Это животное записано в Красную книгу Литвы. Этих животных на Земле очень немного. Что произойдёт, если останутся только самки обыкновенной рыси? Правильное утверждение отметь крестиком (X).

Самки найдут самцов других видов животных, чтобы можно было спариваться и привести потомство, таким образом увеличив количество обыкновенных рысей.

Самки начнут спариваться одна с другой, и родится больше обыкновенных рысей.

У самок могут родиться только самцы обыкновенной рыси.

Самки не смогут оставить потомство обыкновенной рыси, они вымрут.

1 t.


8. Запиши три отличия этих животных, не связанных с их внешним видом.



3 t.

- 1. ....
- 2. ....
- 3. ....


9. Поднялась сильная буря. Какое из этих деревьев ветер чаще переламывает надвое? Отметь крестиком (X). Объясни, почему.



2 t.

- .....
- .....
- .....

10. Как надуть шарик, используя все эти средства? Объясни.



2 t.

- .....
- .....
- .....

11. Рассмотрю карту. Напиши, что на этой карте изображено неверно. Исправь ошибку.



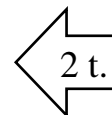
2 t.

- .....
- .....
- .....

12. Что случится, если на Земле исчезнут запасы нефти? Запиши 2 утверждения.

1.....

2.....



13. Реши кроссворд.

1.											
2.											
3.											
4.											
5.						X					
6.											
7.											
8.											
9.											
10.											
11.											
12.											
13.											

1. Третий по величине город Литвы.

2. Название первой тайной литовской газеты.

3. Битва, которая произошла 15 июля 1410 г.

4. Каунас был .....столицей Литвы.

5. Старейший район Вильнюса.

6. Учитель во времена запрета печати, который работал в тайных школах в деревнях.

7. Знаменитый литовский художник и композитор.

8. Король Литвы.


9. Первый президент Литвы.

10. Князь, который расширил границы Великого Княжества Литовского до Чёрного моря.

11. Самый старый растущий в Литве дуб.

12. Автор первой литовской книги.

13. Литва является членом .....



СПАСИБО ЗА РАБОТУ

Мог набрать всего 39 баллов.