



2016 m......

Mokykla.....

Mokinio vardas, pavardė.....

1. Округли:

до километров: 3956,746 км \approx км

до сотен: 9388 \approx

2t.

2. В 6 часов утра температура воздуха была -4°C . Каждый час она поднималась на 2°C , пока в 11 часов достигла $+6^{\circ}\text{C}$. Какая температура была в 9 часов?

Обведи правильный ответ:

a) -2°C b) 0°C c) $+2^{\circ}\text{C}$ d) $+4^{\circ}\text{C}$ e) $+6^{\circ}\text{C}$

1t.

3. 500 г гречки стоит 2,24 евро, а 200 г пшеничной крупы – 0,29 евро. Килограмм какой крупы стоит дороже и на сколько?

Решение:

Ответ:

2t.

4. Из спичек составлено неверное равенство:



Переложити одну спичку так, чтобы равенство стало верным. Запиши новое равенство.

Ответ:

1t.

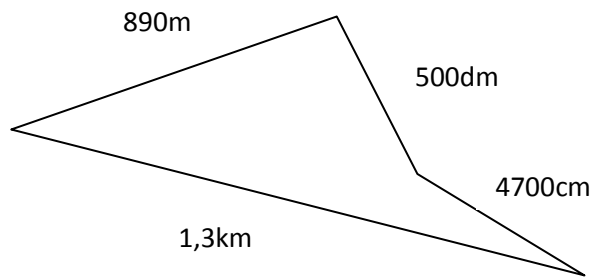
5. Решити уравнение:

$$a - (801 - 374) = 473$$

1t.

6. Вычисли периметр.

Решение:



Ответ:

2т.

7. Лукас задумал число. Прибавил к нему произведение чисел 13 и 5, затем отнял разность чисел 61 и 39. У него получилось 50. Какое число задумал Лукас?

Ответ:

1т.

8. Улитка ползёт по столбу, высота которого 10 м. В течение дня она проползает 4 м вверх, а за ночь сползает на 3 м вниз. Через сколько дней улитка достигнет вершины столба?

Ответ:

1т.

9. Во дворе Моника насыпала семечки подсолнуха. Прилетел один воробей, склевал четверть всех семечек и улетел. Прилетел второй воробей и склевал четверть оставшихся семечек. После этого на земле осталось 9 семечек. Сколько семечек подсолнуха насыпала Моника вначале?

Решение:

Ответ:

4т.

10. Папа решил покрасить забор с обеих сторон. Длина забора – 8 м, а высота – вдвое меньше. Вычисли, сколько краски ему потребуется, если на 1 м^2 нужно 100 г краски.

Решение:

Ответ:

3т.






















10. Томас, Симас и Лауринас вместе идут из школы доиной. 25 мин они идут вместе до дома Лауринаса. Потом Томас и Симас 10 мин идут до дома Симаса. Затем Томас ещё 5 мин идёт до своего дома. В котором часу мальчики должны выйти из школы, чтобы Томас был дома в 15 ч 20 мин?

Решение:





2т.

Ответ:

11. На пиктограмме изображено, сколько каких домашних животных выращивает фермер. 1 символ соответствует 14 животным.

Запиши в таблице, сколько и каких домашних животных выращивает фермер. Вычисли, на сколько меньше он выращивает птиц, чем рогатого скота?

Решение:

Ответ:

3т.